


Inhaltsverzeichnis

Vorwort	6
1 Der Taschenrechner	6
1.1 Einige kurze Erläuterungen zur Schreibweise	6
1.2 Grundlegendes: Die Menüstruktur	7
1.3 Erste Rechnungen	7
1.4 Wichtige Tasten	8
1.5 Das Bildschirmmenü	9
1.6 Bearbeiten, Korrigieren und Löschen	9
1.7 Mehrere Rechenschritte hintereinander ausführen	10
2 Weitere Rechnungen	12
2.1 Rechnen mit Brüchen	12
2.2 Rechnen mit Klammern	13
2.3 Der Variablenspeicher	13
2.4 Potenzieren und Wurzelziehen	14
2.5 Simulation von Zufallszahlen	15
2.6 Die Exponentialschreibweise	16
3 Gleichungen und Gleichungssysteme	21
3.1 Quadratische und kubische Gleichungen lösen	21
3.2 Allgemeine Gleichungen lösen mit dem Grafikeditor	22
3.3 Allgemeine Gleichungen lösen mit SolveN	23
3.4 Lineare Gleichungssysteme mit zwei Variablen	24
3.5 Lineare Gleichungssysteme mit drei Variablen	26
4 Funktionen untersuchen – Teil 1	33
4.1 Grafische Darstellung	33
4.2 Einstellen des Grafikfensters	34
4.3 Die Zoom-Funktion	35
4.4 Wertetabellen	37
4.5 Der Grafik-Solver	38
4.6 Funktionswerte berechnen	38
4.7 Nullstellen berechnen	39
4.8 Schnittpunkte berechnen	40



Notiz-Rand

5 Funktionen untersuchen – Teil 2	47
5.1 Extrempunkte berechnen	47
5.2 Zeichnen der Ableitung	48
5.3 Wendepunkte berechnen	49
5.4 Integrale – Flächenberechnung	50
5.5 Stammfunktion zeichnen	52
5.6 Kurvenscharen	53
5.7 Kurvenscharen dynamisch darstellen	54
5.8 Tangente an die Kurve legen	56
5.9 Regression	57
6 Matrizen	64
7 Die Binomialverteilung	66
7.1 Binomialverteilung und kumulierte Binomialverteilung	66
7.2 Die Umkehrfunktion der kumulierten Binomialverteilung	67
8 Komplexe Aufgaben lösen mit dem GTR	69
8.1 Medikament	69
8.2 Mountainbikes	74
8.3 Tannensetzling	79
8.4 Matrizen – Fertighäuser	83
8.5 Kugelschreiber	87
8.6 Forschungslabor	90
9 Einstellungen	92
9.1 Anzeigekontrast	92
9.2 Anzeige der Dezimalstellen	92
9.3 Winkelmaße	92
9.4 Zurücksetzen des Geräts	92
9.5 Spracheinstellungen	92

Wie arbeitest du mit diesem Buch?

Wenn du den GTR zum ersten Mal in der Hand hältst, ist es am besten, das Buch von vorne durchzuarbeiten, um den Rechner näher kennenzulernen. Wenn du das Gerät schon kennst und eine konkrete Fragestellung hast, kannst du jederzeit direkt im entsprechenden Kapitel nachlesen.

Zu Beginn jedes Kapitels wird kurz erläutert, worum es geht. Außerdem wird gezeigt, wo die entsprechenden Funktionen im GTR zu finden sind. Anhand eines Beispiels wird das Thema dann konkret behandelt.

Man lernt am besten durch Üben. Deswegen gibt es zu jedem Thema eine oder mehrere Übungsaufgaben. An diesen kannst du direkt anwenden, was du gerade gelesen hast. Die Lösungen zu den Übungsaufgaben befinden sich am Ende des jeweiligen Kapitels.

Einen neuen Taschenrechner nur durch ein Buch kennenzulernen, ist nicht einfach. Daher liegt diesem Buch eine DVD bei, auf der sich Videos befinden, in denen die Benutzung des Taschenrechners noch einmal genau gezeigt wird. Die entsprechenden Stellen im Buch sind mit einem Kamerasymbol gekennzeichnet.

Wichtige Tipps werden durch dieses Symbol am Rand hervorgehoben.

Wir wünschen dir viel Spaß mit dem Gerät.

Robert Neumann und Helmut Gruber

Notiz-Rand

Tipps

Die wichtigsten Tipps sind deine eigenen! Deshalb besitzt dieses Heft einen Rand mit Platz für Notizen.



3 Gleichungen und Gleichungssysteme

Die unterschiedlichen Arten von Gleichungen kannst du mit dem GTR auf verschiedene Weise lösen:

- Quadratische und kubische Gleichungen löst du mit der «Gleichungslöser-Anwendung» EQUA im Hauptmenü. (EQUA steht für equation = Gleichung) (Kap. 3.1)
- Sonstige «kompliziertere» Gleichungen löst du mit dem Grafikeditor (Kap. 3.2) oder mit der Funktion SolveN. (to solve = lösen) (Kap. 3.3)
- Gleichungssysteme mit zwei Unbekannten löst du über den Grafikeditor (Kap. 3.4)
- Bei Gleichungen wie z.B. $2x - 5 = 17$, die nur eine nicht-quadratische Unbekannte enthalten, lohnt es sich meist nicht, den GTR zu benutzen – wenn doch, dann benutzt du SolveN.

3.1 Quadratische und kubische Gleichungen lösen

Quadratische und kubische Gleichungen werden mit dem Gleichungslöser gelöst. Diesen rufst du im Hauptmenü mit EQUA auf.

Im nächsten Schritt wählst du mit [F2] Polynomgleichung aus.

Nun musst du noch den Grad des Polynoms auswählen:
Bei einer quadratischen Gleichung also 2, bei anderen Polynomgleichungen den jeweils höchsten Exponenten.

Beispiel

Gesucht sind die Lösungen der Gleichung $2x^2 + 3x + 3 = 4$.

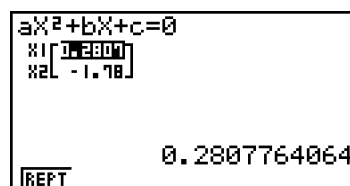
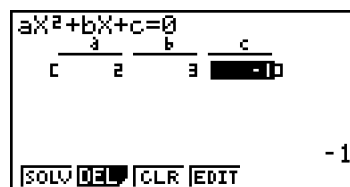
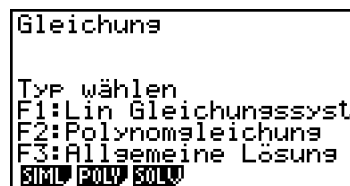

Zuerst stellst du die Gleichung nach Null um:

$$2x^2 + 3x - 1 = 0$$

Nun wählst du die Funktion zum Lösen von Polynomgleichungen mit Grad 2 aus und gibst die Koeffizienten ein. Mit SOLV wird die Gleichung gelöst.

Die Lösungen werden nun angezeigt.

Zusätzlich wird rechts die exakte Lösung angezeigt. Mit REPT oder [EXIT] gelangst du wieder zurück zur Eingabe.



Notiz-Rand



- ! Mit dieser Anwendung lassen sich nur Polynomgleichungen lösen. Das sind Ausdrücke, die x , x^2 , x^3 , usw. enthalten, jedoch keine mathematischen Ausdrücke wie \sin , e^x oder Wurzeln.
- ! Nur mit der Polynomgleichungs-Anwendung werden automatisch alle Nullstellen (Lösungen) eines Polynoms ermittelt. Mit Allgemeine Lösung bzw. Solver, d.h. [F3], wird immer nur eine Lösung bestimmt.
- Mit CLR löschst du alle Koeffizienten.

Übungen

- a) Bestimme die Lösungen der folgenden Gleichung: $x^2 + 4x = 3$
- b) Bestimme die Lösungen der folgenden Gleichung: $x^2 = 2x + 168$

3.2 Allgemeine Gleichungen lösen mit dem Grafikeditor

Um allgemeine Gleichungen zu lösen, ist es oft sinnvoller, die Gleichung über das Grafikfenster zu lösen, da du so einen guten Überblick über die Lösungen behältst. Dazu stellst du zuerst die Gleichung nach Null um, gibst sie im Grafikeditor ein und bestimmst die Nullstellen des zugehörigen Graphen.

Beispiel

Gesucht sind die Lösungen der Gleichung $\sqrt{x+2} \cdot x^2 = 1$.

Zuerst stellst du die Gleichung nach Null um:

$$\sqrt{x+2} \cdot x^2 - 1 = 0$$

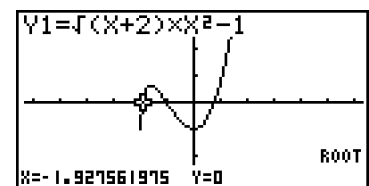
Nun wechselst du im Hauptmenü in den Grafikeditor GRAPH und gibst die Gleichung in der Zeile Y1 ein (Klammern setzen!): $Y1 = \sqrt{(x+2)} \cdot x^2 - 1$.

Die Eingabe wird mit [EXE] abgeschlossen. Mit DRAW wechselst du nun ins Grafikfenster.

Mit $\text{S}[G-Solv] \rightarrow \text{ROOT}$ berechnest du die Nullstellen. (Eine genaue Anleitung findest du auf Seite 39.)

Die Nullstellen der Kurve werden nun angezeigt. Mit [▶] und [◀] kannst du zwischen den einzelnen Nullstellen wechseln.

Die Lösungen der Gleichung $\sqrt{x+2} \cdot x^2 = 1$ sind also $x_1 \approx -1,93$, $x_2 = -1$ und $x_3 \approx 0,77$.



- ! Auch mit dieser Methode findet man nicht *automatisch* alle Lösungen, sondern nur die Lösungen im Ausschnitt des Grafikfensters. Von daher kann es hilfreich sein, das Grafikfenster zu vergrößern.
- Eine weitere Methode ist, die linke Seite der Gleichung bei Y1 einzutragen und die rechte Seite bei Y2. Die Lösungen der Gleichung sind die Schnittstellen der beiden Kurven. Diese berechnest du mit $\text{S}[G-Solv] \rightarrow \text{ISCT}$. Die Funktionswerte an diesen Stellen haben keine Bedeutung.

Übungen

- a) Bestimme mit Hilfe des Grafikfensters die Lösungen der Gleichung: $x^2 + 4x = 3$
- b) Bestimme mit Hilfe des Grafikfensters die Lösungen der Gleichung: $x^2 = 2x + 168$

3.3 Allgemeine Gleichungen lösen mit SolveN

Eine weitere Möglichkeit, allgemeine Gleichungen zu lösen, ist die Funktion SolveN. Diese rufst du in der Hauptanwendung (RUN·MAT) mit [OPTN] → CALC → SolvN auf. Die Funktion bestimmt die Nullstelle des Ausdrucks in der Klammer und zeigt bis zu 10 Lösungen an.

Beispiel

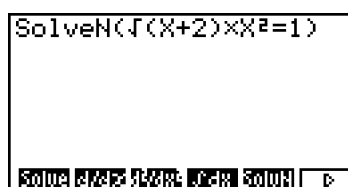
Gesucht sind die Lösungen der Gleichung $\sqrt{x+2} \cdot x^2 = 1$.

Zuerst rufst du im Menü die Hauptanwendung RUN·MAT auf.

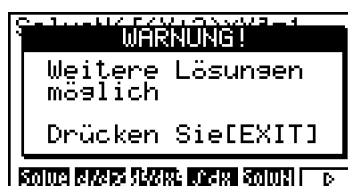
Nun rufst du die Funktion mit [OPTN] → CALC → SolvN auf und gibst die Gleichung ein.

Die Eingabe wird mit [EXE] abgeschlossen. Es wird eine Warnung angezeigt, dass weitere Lösungen existieren könnten. Du drückst [EXIT], um das Fenster verschwinden zu lassen.

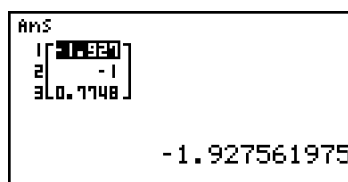
Die Lösungen der Gleichung werden nun angezeigt. Mit [▲] und [EXE] [▼] kannst du die anderen Lösungen anzeigen lassen. Die Lösungen der Gleichung $\sqrt{x+2} \cdot x^2 = 1$ sind also $x_1 \approx -1,93$, $x_2 = -1$ und $x_3 \approx 0,77$.



```
SolveN(√(X+2)·X^2=1)
```



```
WARNUNG!  
Weitere Lösungen  
möglich  
Drücken Sie[EXIT]
```



```
Ans  
1 | -1.927561975  
2 | -1  
3 | 0.7748
```

! Der GTR zeigt die Warnung immer an – auch bei Gleichungen wie $x - 1 = 0$, bei denen klar ist, dass sie nur eine Lösung haben.

- Es werden maximal 10 Lösungen gleichzeitig angezeigt.

Übungen

- a) Bestimme mit Hilfe der Funktion SolveN die Lösungen der Gleichung: $x^2 + 4x = 3$
- b) Bestimme mit Hilfe der Funktion SolveN die Lösungen der Gleichung: $x^2 = 2x + 168$



8 Komplexe Aufgaben lösen mit dem GTR

Die folgenden Aufgaben sind komplexer und im Stil von Abituraufgaben gestellt, daher auch der Wechsel in der Aufgabenstellung vom «du» zum «Sie». Anhand dieser Aufgaben kannst du die Strategien erarbeiten, die nötig sind, um solche Aufgaben mit Hilfe des GTR zu lösen.

Bei einigen Aufgaben ist zuerst der «klassische» Weg beschrieben, d.h. das schrittweise Lösen der Aufgabe. Im Anschluss wird gezeigt, dass mit dem GTR diese Aufgaben in wenigen Schritten gelöst werden können. Am Rand befinden sich Verweise auf die Seiten im Buch, auf denen die jeweilige Methode ausführlich erklärt wird.

Die Eingaben in den GTR sind zwecks besserer Lesbarkeit grau hinterlegt.

8.1 Medikament

Durch die Funktion

$$f(t) = 40t \cdot e^{-0,5t}; t \geq 0$$

wird die Konzentration eines Medikaments im Blut eines Patienten beschrieben. Dabei wird t in Stunden seit der Einnahme und $f(t)$ in $\frac{\text{mg}}{\text{l}}$ gemessen.

- a) Skizzieren Sie den zeitlichen Verlauf der Konzentration.

Nach welcher Zeit erreicht die Konzentration ihren höchsten Wert?

Wie groß ist dieser höchste Wert?

Das Medikament ist nur wirksam, wenn seine Konzentration im Blut mindestens $8 \frac{\text{mg}}{\text{l}}$ beträgt.

Berechnen Sie den Zeitraum, in dem das Medikament wirksam ist.

- b) Zu welchem Zeitpunkt wird das Medikament am stärksten abgebaut?

Wie groß ist zum Zeitpunkt $t = 4$ die momentane Änderungsrate der Konzentration?

Ab diesem Zeitpunkt wird die Konzentration des Medikaments nun näherungsweise durch die Tangente an den Graph von $f(t)$ an der Stelle $t = 4$ beschrieben.

Bestimmen Sie damit den Zeitpunkt, zu dem das Medikament vollständig abgebaut ist.

- c) Das Medikament wird nun in seiner Zusammensetzung verändert, seine Konzentration im

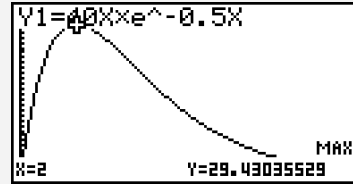
Blut wird durch die Funktion $g(t) = at \cdot e^{-bt}$ mit $a > 0$ und $b > 0$ beschrieben.

Dabei wird t in Stunden seit der Einnahme und $g(t)$ in $\frac{\text{mg}}{\text{l}}$ gemessen.

Bestimmen Sie die Konstanten a und b so, dass die Konzentration vier Stunden nach der Einnahme ihren größten Wert mit $20 \frac{\text{mg}}{\text{l}}$ erreicht.

Das Maximum von $f(t)$ erhältst du mit dem GTR: $t = 2$ und $f(2) \approx 29,43$.
 Nach zwei Stunden wird also die maximale Konzentration von $29,43 \frac{\text{mg}}{\text{l}}$ erreicht.

Im Grafikfenster führt die Eingabe von $\text{S[G-Solv]} \rightarrow \text{MAX}$ zur Anzeige des Maximums.

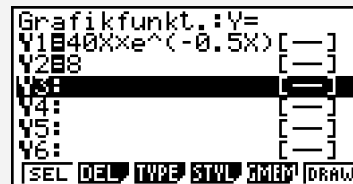


Das Medikament ist wirksam, wenn die Konzentration größer ist als $8 \frac{\text{mg}}{\text{l}}$. Um den Anfangs- und Endzeitpunkt zu bestimmen, musst du den Graphen von $f(t)$ mit der Geraden $y = 8$ schneiden. Die Ergebnisse dieser Schnittpunktbestimmung sind: $t_1 \approx 0,22$ und $t_2 \approx 7,15$.
 Damit ist:

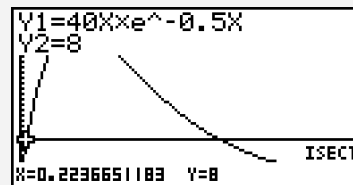
$$t_2 - t_1 = 6,93$$

Die Länge des Zeitraums, in dem das Medikament wirksam ist, beträgt somit etwa 7 Stunden.

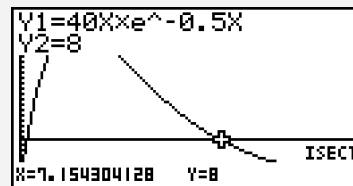
Zuerst gibst du die Funktion $y = 8$ im Grafikeditor in der zweiten Zeile ein und wechselst ins Grafikfenster.



Nach der Eingabe von $\text{S[G-Solv]} \rightarrow \text{ISCT}$ wird die erste Schnittstelle direkt angezeigt.



Um die zweite Schnittstelle anzeigen zu lassen, benutzt du \blacktriangleright .



b) Um den Zeitpunkt, an dem das Medikament am stärksten abgebaut wird, zu erhalten, gibt es verschiedene Wege:

Man kann mit Hilfe der Produktregel die Ableitung $f'(t)$ berechnen:

$$f'(t) = 40e^{-0,5t} + 40t \cdot e^{-0,5t} \cdot (-0,5) = (40 - 20t)e^{-0,5t}$$

Das Minimum von $f'(t)$ erhält man mit dem GTR: $t = 4$.

Genau 4 Stunden nach Einnahme des Medikaments wird es am stärksten abgebaut.

Die momentane Änderungsrate zum Zeitpunkt $t = 4$ erhält man mit $f'(t)$ oder mit dem GTR

$$f'(4) = (40 - 20 \cdot 4)e^{-0,5 \cdot 4} = -40e^{-2} = -\frac{40}{e^2} \approx -5,41.$$

Nach 4 Stunden beträgt die momentane Änderungsrate also etwa $-5,4$.

Mit Hilfe des GTR kann diese Berechnung komplett durchgeführt werden:

→ Seite 47

→ Seite 40

→ Seite 49

Notiz-Rand

Tipp

Mit dem GTR kann diese Berechnung komplett durchgeführt werden

→ Seite 56

Tipp

Mit dem GTR kann diese Berechnung komplett durchgeführt werden

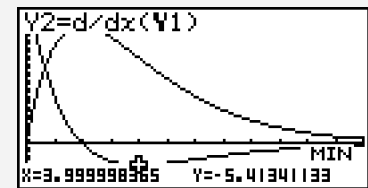
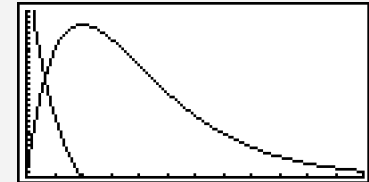
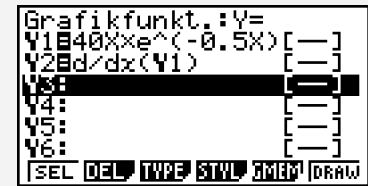
Du gibst bei Y2 den Ableitungsbefehl ein: [OPTN] → CALC → d/dx. Anschließend wählst du Y1 mit den Tasten [F1] und [1] aus. Nun wechselst du mit DRAW in das Grafikfenster.

Es ist sinnvoll, zuerst noch die y-Werte des Fensters anzupassen, z.B. auf Ymin = -10.

Du wählst nun: $\overset{S}{\text{G-Solv}}$ → MIN.

Mit [▼] wechselst du auf die Ableitungsfunktion und startest die Berechnung mit [EXE].

Der rechts angezeigte Wert ist nicht der y-Wert des Wendepunktes, sondern der Funktionswert der Ableitung und damit der Wert der Wachstumsrate.



Um die Gleichung der Tangente t^* an den Graph von $f(t)$ an der Stelle $t_1 = 4$ zu erhalten, setzt du $t_1 = 4$, $y_1 = f(4) = 160e^{-2}$ und $m = f'(4) = -40e^{-2}$ in die Punkt-Steigungsform $y - y_1 = m(t - t_1)$ ein:

$$y - 160e^{-2} = -40e^{-2} \cdot (t - 4) \Rightarrow y = -40e^{-2}t + 320e^{-2}$$

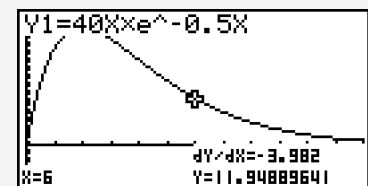
Schneidet man die Tangente mit der x-Achse, so erhält man:

$$0 = -40e^{-2}t + 320e^{-2} = e^{-2}(320 - 40t) \Rightarrow 320 - 40t = 0 \Rightarrow t = 8$$

Nach 8 Stunden ist das Medikament also vollständig abgebaut.

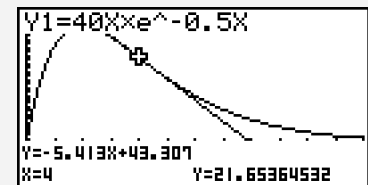
Mit dem GTR geht das Ganze direkt, ohne dass eine Tangentenformel benötigt wird:

Du rufst im Grafikfenster mit $\overset{S}{\text{Sketch}}$ → Tang die Tangentenfunktion auf. (Eventuell vorher bei $\overset{S}{\text{SETUP}}$ → Derivative auf «On» setzen!)



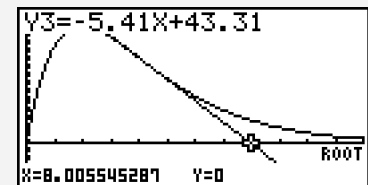
Nun gibst du den gewünschten x-Wert ein und drückst zwei Mal [EXE].

Die gesuchte Tangente wird angezeigt und hat die Geradengleichung $y = -5,41x + 43,31$.



Um die Nullstellen der Tangente zu berechnen, muss diese erst als Funktion eingegeben werden.

Die Eingabe von $\overset{S}{\text{G-Solv}}$ → ROOT führt dann zur Nullstellenberechnung.



c) Es ist $g(t) = at \cdot e^{-bt}$; $a > 0$, $b > 0$.

Die Ableitung $g'(t)$ erhältst du mit der Produkt- und Kettenregel:

$$g'(t) = a \cdot e^{-bt} + at \cdot e^{-bt} \cdot (-b) = (a - abt) \cdot e^{-bt}$$

Damit die Konzentration $g(t)$ nach 4 Stunden ihren größten Wert von $20 \frac{\text{mg}}{\text{l}}$ annimmt, müssen folgende Bedingungen gelten:

$$g(4) = 20$$

$$g'(4) = 0$$

Als Gleichungssystem geschrieben bedeutet das:

$$\text{I} \quad 4a \cdot e^{-4b} = 20$$

$$\text{II} \quad (a - 4ab) \cdot e^{-4b} = 0$$

Betrachtet man Gleichung II, so ergibt sich (da der zweite Faktor nicht gleich Null sein kann):

$$a - 4ab = 0$$

Ausklammern führt zu:

$$a(1 - 4b) = 0$$

Wegen $a > 0$ folgt:

$$1 - 4b = 0 \Rightarrow b = \frac{1}{4}$$

Setzt man $b = \frac{1}{4}$ in Gleichung I ein, so ergibt sich:

$$4a \cdot e^{-4 \cdot 0,25} = 20 \Rightarrow 4a \cdot e^{-1} = 20 \Rightarrow a = 5e \approx 13,59$$

Die Konzentration erreicht also 4 Stunden nach der Einnahme ihren größten Wert von $20 \frac{\text{mg}}{\text{l}}$, wenn $a = 5e$ und $b = \frac{1}{4}$ gewählt werden.

Die Funktion $g(t)$ lautet dann:

$$g(t) = 5e \cdot t \cdot e^{-\frac{1}{4}t} = 5te^{1-\frac{1}{4}t}$$

Notiz-Rand

Hinweis

Es handelt sich nicht um ein lineares Gleichungssystem, daher kann man es nicht mit dem GTR lösen.